



**REPUBLIKA HRVATSKA**  
***Nacionalni centar za vanjsko  
vrednovanje obrazovanja***

# **GEOGRAFIJA**

## **UPUTA**

Ovaj će dio ispita trajati 30 minuta.

Pozorno pročitaj svaki zadatak i uputu.

Želimo ti mnogo uspjeha.

Počni s rješavanjem.

**PRAZNA STRANICA**

U sljedećim zadacima samo je **jedan** od ponuđenih **odgovora** točan.  
**Zakruži slovo** ispred točnoga odgovora.

1. Uz finski, **službeni jezik** u Finskoj je:
  - a) danski
  - b) norveški
  - c) ruski
  - d) švedski
  
2. Koja među navedenima županijama ima **najveću** prosječnu **gustoću naseljenosti**?
  - a) Bjelovarsko-bilogorska
  - b) Istarska
  - c) Međimurska
  - d) Splitsko-dalmatinska
  
3. Koja država **najveći** udio energije dobiva u **geotermalnim** elektranama?
  - a) Danska
  - b) Francuska
  - c) Island
  - d) Norveška
  
4. Koji su gradovi povezani **najkraćom** vezom **između** Panonske nizine i Jadranskoga mora?
  - a) Budimpešta – Osijek – Sarajevo – Ploče
  - b) Budimpešta – Osijek – Sarajevo – Split
  - c) Budimpešta – Maribor – Zagreb – Split
  - d) Budimpešta – Varaždin – Zagreb – Rijeka

5. Pozvan/pozvana si na sastanak bankara Europske unije u sjedište Europske središnje banke.

U koji ćeš grad krenuti?

- a) u Beč na Dunavu
- b) u Frankfurt na Majni
- c) u London na Temzi
- d) u Pariz na Seni

6. Marikultura je uzgoj:

- a) ranoga povrća
- b) morskih organizama
- c) ljekovitoga bilja
- d) južnoga voća

U sljedećem zadatku samo je jedan kronološki redoslijed točan. Upiši ga brojevima od 1 do 4 na prazne crte (1 – najranije, 4 – najkasnije).

7. Poredaj navedene članice Europske unije prema redoslijedu prijema u članstvo.

\_\_\_\_\_ BELGIJA

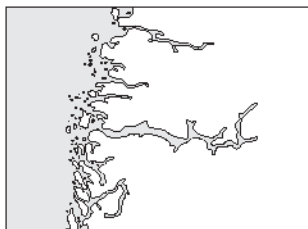
\_\_\_\_\_ BUGARSKA

\_\_\_\_\_ GRČKA

\_\_\_\_\_ UJEDINJENO KRALJEVSTVO

U sljedećim zadacima na crtu upiši odgovarajući pojam ili slovo.

8. Od šest ponuđenih pojmova: DELTA, ESTUARIJ, FJORD, KLIF, LAGUNA, RIJAS, odaberi četiri pojma koji su prikazani skicama i upiši ih na crte ispod skica.



a) \_\_\_\_\_



b) \_\_\_\_\_

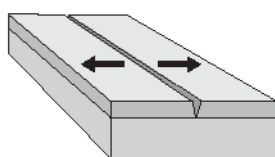


c) \_\_\_\_\_

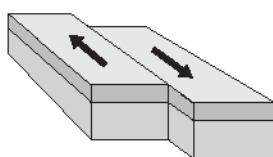


d) \_\_\_\_\_

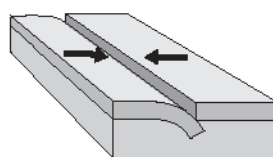
9. Alpe su nastale **pokretom** litosfernih ploča koji je prikazan na slici \_\_\_\_ .



A



B



C

10. Na crte u rečenici upiši odgovarajuće glavne strane svijeta.

Republika Hrvatska nalazi se \_\_\_\_\_ od početnoga meridijana i  
\_\_\_\_\_ od ekvatora.

U slijedećim zadacima broj iz desnoga stupca **upiši** na odgovarajuću **crtu** pokraj lijevoga stupca.

U desnome je stupcu jedan broj viška.

**11. Poveži rubne točke Hrvatske s odgovarajućim geografskim prostorom.**

- |                           |              |
|---------------------------|--------------|
| najsjevernija točka _____ | 1) Konavle   |
| najjužnija točka _____    | 2) Istra     |
| najistočnija točka _____  | 3) Baranja   |
| najzapadnija točka _____  | 4) Međimurje |
|                           | 5) Srijem    |

**12. Poveži glavne rijeke s odgovarajućim pritocima.**

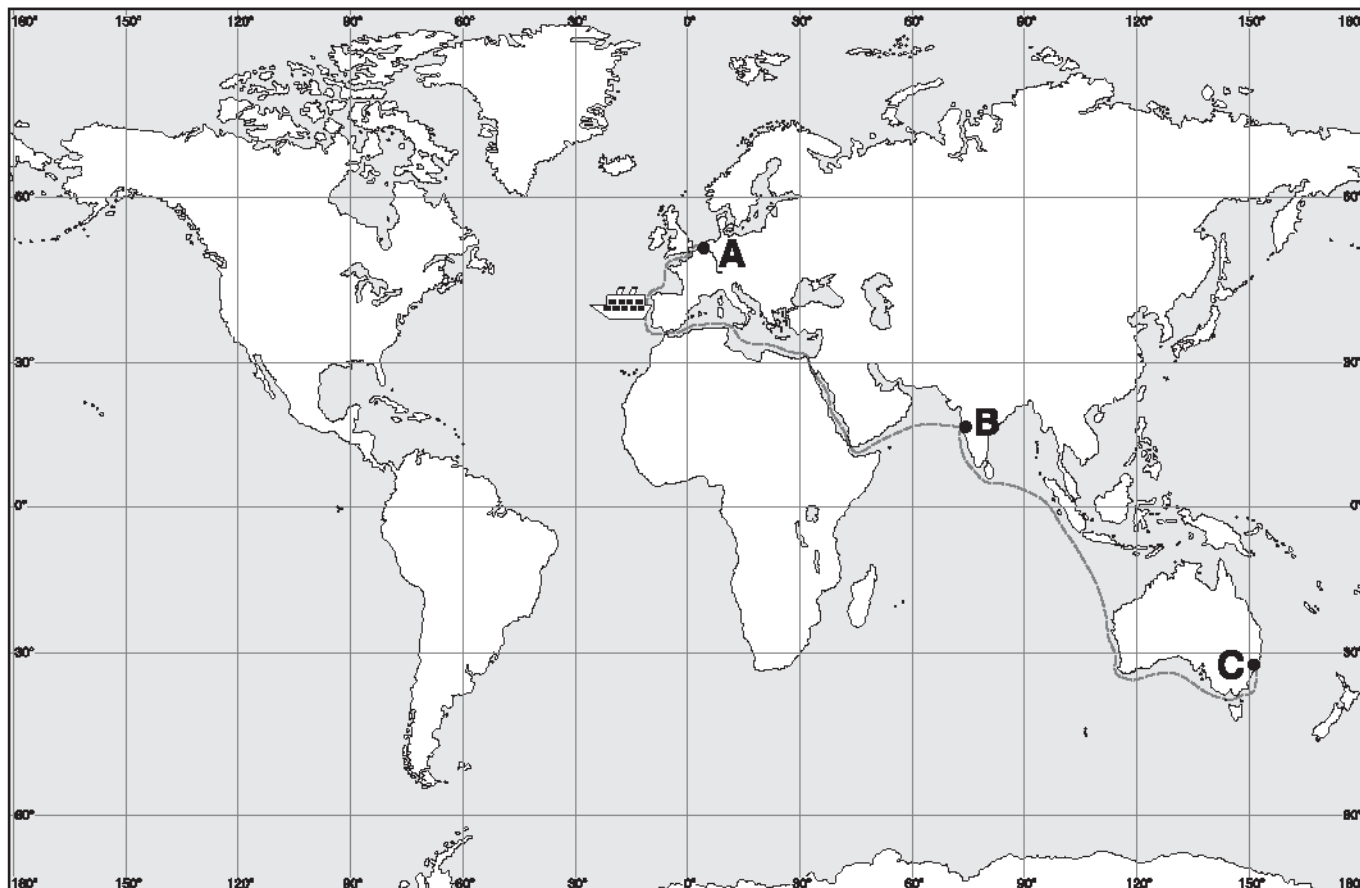
- |                     |           |
|---------------------|-----------|
| pritok Kupe _____   | 1) Una    |
| pritok Dunava _____ | 2) Čikola |
| pritok Drave _____  | 3) Korana |
| pritok Save _____   | 4) Vuka   |
|                     | 5) Bednja |

**13. Poveži države s odgovarajućim turističkim odredištima.**

- |                  |                   |
|------------------|-------------------|
| Španjolska _____ | 1) Fatima         |
| Francuska _____  | 2) Tarikovo brdo  |
| Portugal _____   | 3) Lourdes        |
| Češka _____      | 4) Kanarski otoci |
|                  | 5) Karlovy Vary   |

Sljedeće zadatke (od 14. do 19.) riješi uz pomoć priložene karte.

Na prazne crte upiši odgovarajuću riječ.



14. Brod je isplovio iz **najveće europske morske luke označene na karti slovom A**.  
**Plovi prema lukama označenima na karti slovima B i C.**

a) U kojem se **toplinskome pojasu** nalazi luka označena na karti slovom B?

\_\_\_\_\_

b) Koje je **godišnje doba** 1. listopada u luci označenoj na karti slovom C?

\_\_\_\_\_

c) Koji je **grad** označen na karti slovom A?

\_\_\_\_\_

15. **Grad** označen na karti slovom A nalazi se **na rijeci** \_\_\_\_\_ .
16. **Najkraća udaljenost** između luke B i luke C na karti iznosi 5 centimetara.  
Karta je izrađena u mjerilu 1 : 200 000 000.  
**Izračunaj** kolika je **zračna udaljenost** između tih dviju luka **u prirodi**.

Prostor za računanje

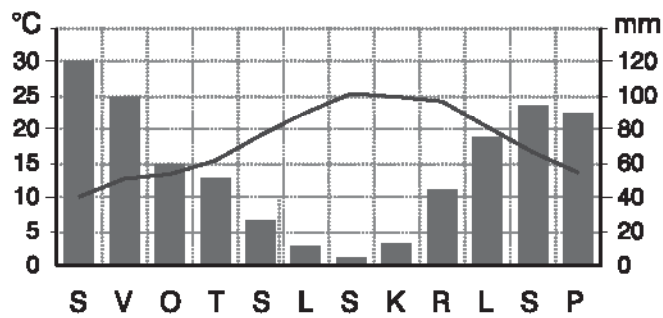
Zračna udaljenost između luka B i C u prirodi je \_\_\_\_\_ km.



U sljedećim zadacima samo je **jedan** od ponuđenih **odgovora** točan.  
**Zaokruži slovo** ispred točnoga odgovora.

17. U luci označenoj na karti slovom B brod je ukrcao **najvažnije izvozne proizvode** južne i jugoistočne Azije. To su:
- a) banane i drvo
  - b) čaj i riža
  - c) kakao i kava
  - d) pšenica i govedina
18. Koje je **doba dana** u luci označenoj na karti slovom C kada je u luci B sedam sati ujutro?
- a) jutro
  - b) podne
  - c) večer
  - d) ponoć
19. Brod plovi **najkraćim putem** od luke označene na karti slovom A prema luci B. Mora ploviti:
- a) uz Korejski poluotok
  - b) uz Krimski poluotok
  - c) uz Malajski poluotok
  - d) uz Sinajski poluotok

20. Sljedeći zadatak riješi analizom priloženoga klimatskoga dijagrama.



1) Koje je **godišnje doba** na gornjem klimatskom dijagramu **najvlažnije?**

\_\_\_\_\_

2) Koliko približno iznosi godišnja **temperaturna amplituda?**

\_\_\_\_\_

3) Koji je **tip klime** prikazan na klimatskome dijagramu?

**Zaokruži slovo** uz točan odgovor.

- a) snježno-šumska klima
- b) sredozemna klima
- c) stepska klima
- d) umjereno topla klima