



REPUBLIKA HRVATSKA
***Nacionalni centar za vanjsko
vrednovanje obrazovanja***

GEOGRAFIJA

UPUTA

Ovaj će dio ispita trajati 45 minuta.

Pozorno pročitaj svaki zadatak i uputu.

Želimo ti mnogo uspjeha.

Počni s rješavanjem.

PRAZNA STRANICA

U sljedećim je zadatcima točan samo **jedan** od ponuđenih odgovora.
Zaokruži slovo ispred točnoga odgovora.

1. **Koliko** je **županija** u Republici Hrvatskoj?

- a) 11
- b) 17
- c) 21
- d) 25

2. **Obnovljivi** je izvor energije:

- a) nafta
- b) ugljen
- c) voda
- d) zemni plin

3. Koji je **najkraći** prometni put **između** Panonske nizine i Jadranskoga mora?

- a) Budimpešta – Osijek – Ploče
- b) Budimpešta – Osijek – Split
- c) Budimpešta – Zagreb – Split
- d) Budimpešta – Zagreb – Rijeka

4. **Marikultura** je uzgoj:

- a) ranoga povrća
- b) morskih organizama
- c) ljekovitoga bilja
- d) južnoga voća

5. Koja je od navedenih država **članica** Europske unije?

- a) Austrija
- b) Norveška
- c) Švicarska
- d) Ukrajina

6. Republika se Hrvatska **nalazi**:

- a) **istočno** od početnoga meridijana
- b) **zapadno** od početnoga meridijana

7. **Najsjevernija** se točka Hrvatske nalazi:

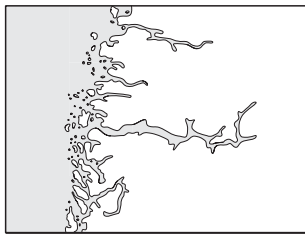
- a) u Baranji
- b) u Istri
- c) u Konavlima
- d) u Međimurju

8. U koju rijeku **utječe** Drava?

- a) Čikolu
- b) Dunav
- c) Neretvu
- d) Savu

9. **Upiši** odgovarajući **pojam** na crtu ispod slike.

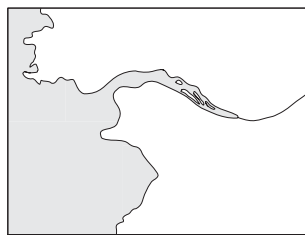
DELTA, ESTUARIJ, FJORD, LAGUNA



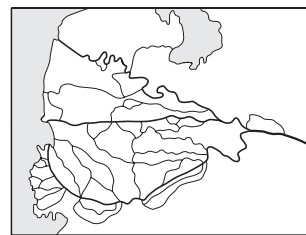
a) _____



b) _____



c) _____



d) _____

Nadopuni rečenicu.

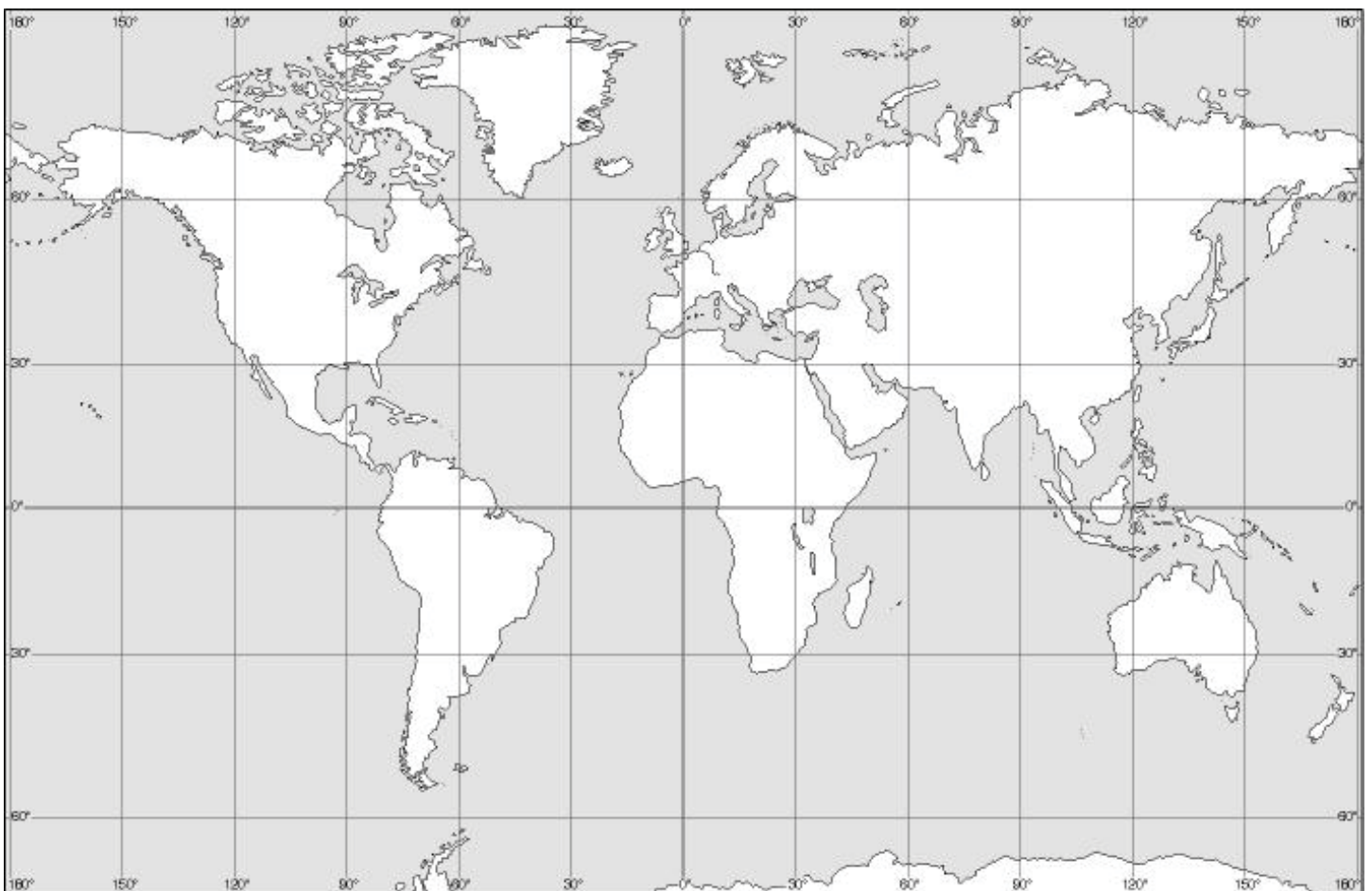
10. Morski prolaz **između** Europe i Afrike zove se _____.

11. Na crte **upiši** odgovarajući **broj**.

Poveži **države** s odgovarajućim **turističkim odredištima**.

Španjolska	_____	1) Atena
Francuska	_____	2) Barcelona
Italija	_____	3) Pariz
Grčka	_____	4) Vatikan

Sljedeće zadatke **riješi uz pomoć ponuđene karte**.



12. Na karti znakom **X** označi **kontinent** na kojem se nalazi Hrvatska.

13. U kojem se **toplinskome pojasu** nalazi Hrvatska?

Odgovor: _____.

14. Kada je u Hrvatskoj zima, koje je **godišnje doba** u Australiji?

Odgovor: _____.

15. Na karti je ucrtana **najprometnija rijeka Europe**. Kako se zove ta rijeka?

Odgovor: _____.

PRAZNA STRANICA