



NACIONALNI CENTAR ZA VANJSKO
VREDNOVANJE OBRAZOVANJA

Identifikacijska
naljepnica

PAŽLJIVO NALIJEPI

LIKOVNA UMJETNOST

Ispitna knjižica 2

Analiza likovnog primjera

LIU IK-2 D-S022

LIU.22.HR.R.K2.16



12375



12





Likovna umjetnost

Prazna stranica

LIU IK-2 D-S022



99





OPĆE UPUTE

Pozorno pročitajte sve upute i slijedite ih.

Ne okrećite stranicu i ne rješavajte zadatke dok to ne odobri dežurni nastavnik.

Nalijepite identifikacijske naljepnice na sve ispitne materijale koje ste dobili u sigurnosnoj vrećici.

Ispit traje **120** minuta bez stanke.

Zadaci se nalaze u dvjema ispitnim knjižicama. Ovaj dio ispita traje **50** minuta.

Dobro rasporedite vrijeme kako biste mogli riješiti sve zadatke.

Ispred svake skupine zadataka je uputa za rješavanje. Pozorno je pročitajte.

Tijekom ispita dopušteno je upotrebljavati kemijsku olovku kojom se piše plavom ili crnom bojom, ravnalo, trokut, olovku, gumicu, flomastere u boji i šestar.

Možete pisati po listu za koncept, ali se njegov sadržaj neće bodovati.

Pišite čitko. Nečitki odgovori bodovat će se s nula (0) bodova.

Ako pogriješite u pisanju, pogreške stavite u zagrade, precrtajte ih i stavite skraćeni potpis.

Kada riješite zadatke, provjerite odgovore.

Želimo Vam mnogo uspjeha!

Ova ispitna knjižica ima 16 stranica, od toga 4 prazne.

Ako ste pogriješili u pisanju odgovora, ispravite ovako:

(Marko Marulić)	Petar Preradović	<i>P</i>
↑	↑	↑
Precrtan netočan odgovor u zagradama	Točan odgovor	Skraćeni potpis

LIU IK-2 D-S022



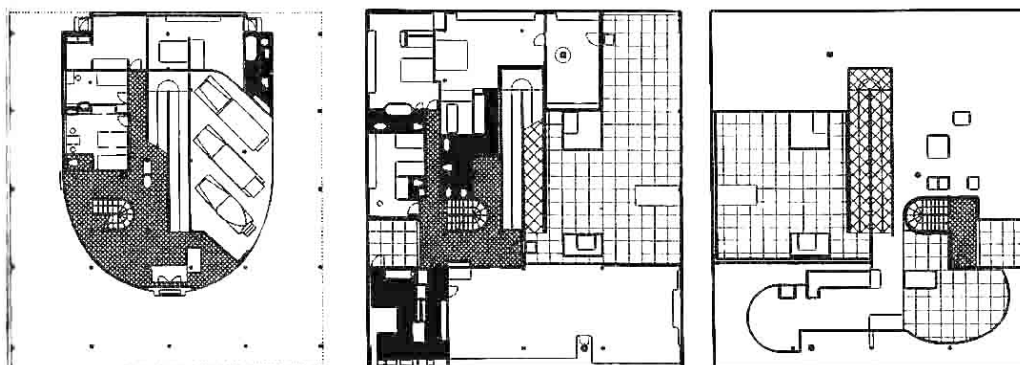
99





Likovna umjetnost

Pozorno promotrite likovni primjer. Nakon likovnoga primjera prikazanoga s nekoliko reprodukcija slijedi 15 zadataka vezanih uz taj likovni primjer. Slijedite upute ispred svake vrste zadataka.



LIU IK-2 D-S022

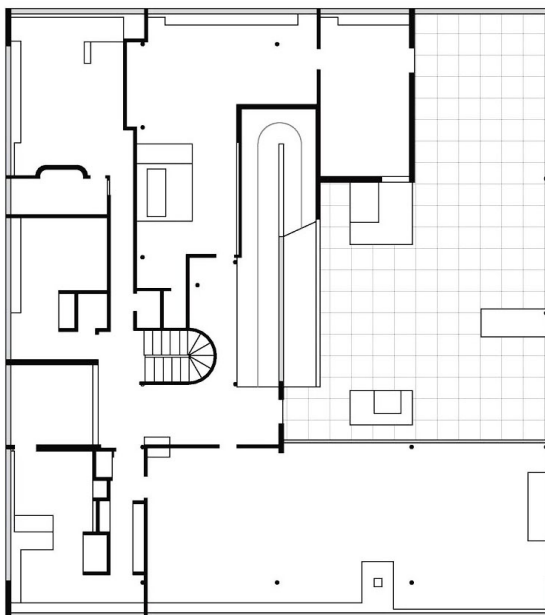


00





Likovna umjetnost



LIU IK-2 D-S022



00



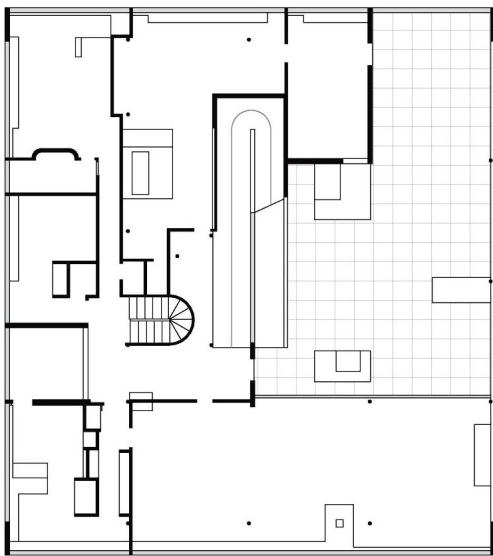


Likovna umjetnost

I. Zadatci dopunjavanja

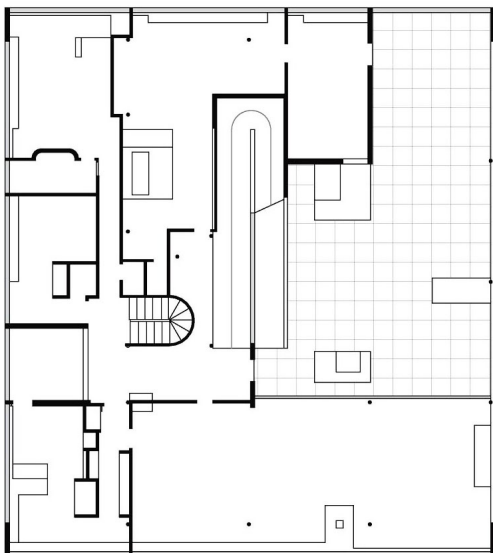
U sljedećim zadacima flomasterom označite ili ucrtajte traženi sadržaj na likovni primjer.
Odgovore označite ili ucrtajte **samo** na predviđeno mjesto u ispitnoj knjižici.
Ne popunjavajte prostor za bodovanje.

1. Na tlocrtu prvoga kata zaokružite veliku terasu.



0	<input type="checkbox"/>
1	<input type="checkbox"/>
NO	<input type="checkbox"/>
bod	

2. Na tlocrtu prvoga kata zaokružite bračnu sobu.



0	<input type="checkbox"/>
1	<input type="checkbox"/>
NO	<input type="checkbox"/>
bod	

LIU IK-2 D-S022



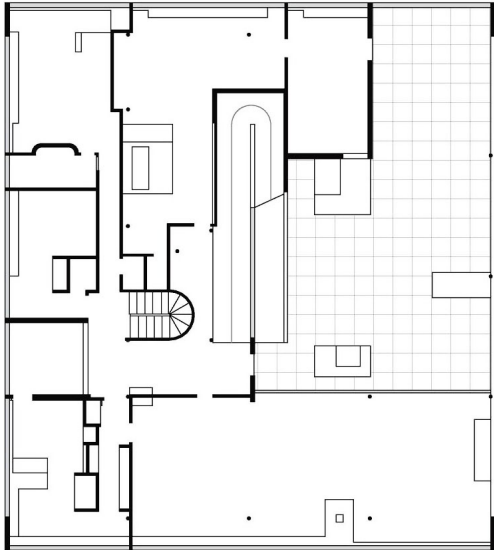
02





Likovna umjetnost

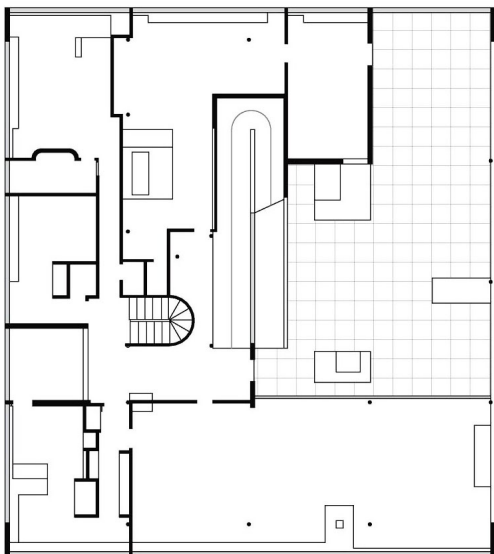
3. Na tlocrtu prvoga kata zaokružite rampu.



0 ☐
1 ☐
NO ☐

bod

4. Na tlocrtu prvoga kata zaokružite kuhinju.



0 ☐
1 ☐
NO ☐

bod

LIU IK-2 D-S022



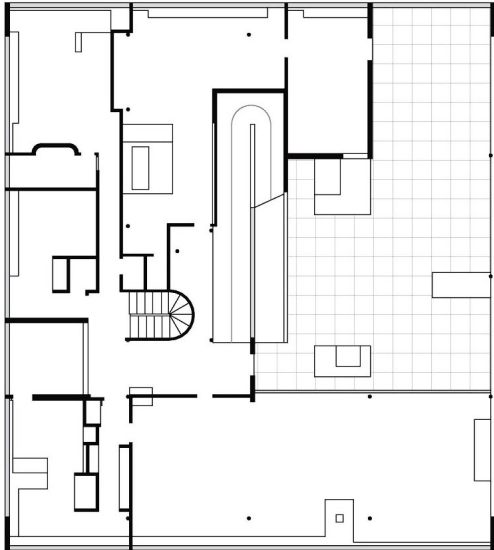
02





Likovna umjetnost

5. Na tlocrtu prvoga kata zaokružite dnevni boravak.



0 ☐
1 ☐
NO ☐
bod

LIU IK-2 D-S022



02





Likovna umjetnost

II. Zadatci produženoga odgovora

U sljedećim zadacima odgovorite s nekoliko rečenica, jasno i sažeto, usmjeravajući se na ono što je bitno za zadatak.

Odgovore upišite **samo** na predviđeno mjesto u ispitnoj knjižici.

Ne popunjavajte prostor za bodovanje.

6. Opišite karakteristike tlocrta svake etaže.

0	<input type="checkbox"/>
1	<input type="checkbox"/>
2	<input type="checkbox"/>
NO	<input type="checkbox"/>
bod	

7. Opišite konstrukciju prikazane građevine.

0	<input type="checkbox"/>
1	<input type="checkbox"/>
2	<input type="checkbox"/>
NO	<input type="checkbox"/>
bod	

LIU IK-2 D-S022



02





Likovna umjetnost

8. Opišite dva glavna načina kretanja prikazanom građevinom.

0 ☐
1 ☐
2 ☐
NO ☐

bod

9. Objasnite odnos prikazane građevine i okolnoga prostora.

0 ☐
1 ☐
2 ☐
NO ☐

bod

LIU IK-2 D-S022



02





Likovna umjetnost

10. Objasnite odnos unutarnjega i vanjskoga prostora s obzirom na svaku etažu.

0

☐

1

☐

2

☐

NO

☐

bod

LIU IK-2 D-S022



02





Likovna umjetnost

III. Zadatci kratkoga odgovora

U sljedećim zadacima odgovorite kratkim odgovorom (s jednom ili nekoliko riječi).
Odgovore upišite **samo** na predviđeno mjesto u ispitnoj knjižici.
Ne popunjavajte prostor za bodovanje.

11. Kojemu pravcu pripada prikazana građevina?

0 ☐

1 ☐

NO ☐

bod

12. Koje je godine dovršena prikazana građevina?

0 ☐

1 ☐

NO ☐

bod

13. Koja je namjena prikazane građevine?

0 ☐

1 ☐

NO ☐

bod

14. Kako se zove arhitekt prikazane građevine?

0 ☐

1 ☐

NO ☐

bod

LIU IK-2 D-S022



02





Likovna umjetnost

15. Od kojega je materijala izvedena konstrukcija prikazane građevine?

0 ☐
1 ☐
NO ☐

bod

LIU IK-2 D-S022



02





Likovna umjetnost

Prazna stranica

LIU IK-2 D-S022



99





Likovna umjetnost

Prazna stranica

LIU IK-2 D-S022



99





Likovna umjetnost

Prazna stranica

LIU IK-2 D-S022



99

