



Идентификациона
налепница

ПАЖЉИВО НАЛЕПИТИ

ГЕОГРАФИЈА

Испитна књижица 1

GEO IK-1 D-S006



GEO.06.SR.R.K1.20



12

Географија

Празна страница

GEO IK-1 D-S006



99



УПУТСТВА

Пажљиво пратите сва упутства.

Не okreћите страну и не решавајте тест док то не одобри дежурни наставник.

Налепите идентификациону налепницу на све испитне материјале које сте добили у коверти.

Испит траје 90 минута без прекида.

Задаци се налазе у две испитне књижице.

Редослед решавања бирајте сами.

Добро распоредите време како бисте могли решити све задатке.

Испред сваке групе задатака је упутство за њихово решавање.

Пажљиво га прочитајте.

Пишите јасно и читко. Нечитки одговори бодоваће се са нула (0) бодова.

У време писања испита допуштено је користити хемијску оловку плаве или црне боје.

Када решите тест, проверите своје одговоре.

Желимо Вам пуно успеха!

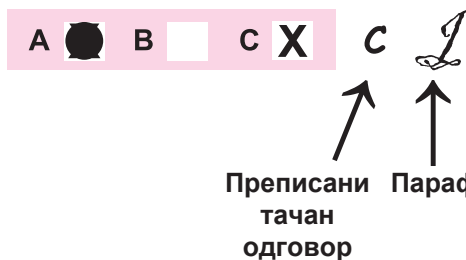
Ова испитна књижица има 20 страница, од тога 4 празне.

Начин попуњавања листа за одговоре

Добро



Исправљање погрешног уноса



Лоше



GEO IK-1 D-S006



99

Географија

I Задаци вишеструког избора

У следећим задацима између четири понуђена требате одабрати један одговор. Одговоре обележите знаком X и обавезно их препишите на лист за одговоре. Сваки тачан одговор доноси 2 бода.

1. Који је од наведених облика извориште ледењака?

- A. цирк
- B. друмлин
- C. комчић
- D. морена

- A. ☐
- B. ☐
- C. ☐
- D. ☐

2. У којем је периоду геолошке прошлости настала већина биогених седиментних стена?

- A. у кенозоику
- B. у мезозоику
- C. у палеозоику
- D. у прекамбрију

- A. ☐
- B. ☐
- C. ☐
- D. ☐

3. Која научна дисциплина проучава важност тла у пољопривредној производњи?

- A. педогеографија
- B. економска географија
- C. аграрна географија
- D. социјална географија

- A. ☐
- B. ☐
- C. ☐
- D. ☐

4. Која два мора најкраћом везом повезује канал Рајна – Мајна – Дунав?

- A. Северно море и Јадранско море
- B. Северно море и Црно море
- C. Северно море и Балтичко море
- D. Северно море и Азовско море


- A. ☐
- B. ☐
- C. ☐
- D. ☐

GEO IK-1 D-S006




01

Географија

<p>5. У којем је граду крајем 2009. године потписан међународни споразум о смањењу стакленичких плинова у атмосфери?</p> <p>A. у Копенхагену B. у Кјоту C. у Њујорку D. у Рио де Женеру</p>	<p>A. <input type="checkbox"/> B. <input type="checkbox"/> C. <input type="checkbox"/> D. <input type="checkbox"/></p>
<p>6. У којој је подетапи демографског развоја држава која има десетак година стопе наталитета 35‰, а стопе морталитета 15‰?</p> <p>A. у касној транзицији B. у посттранзицији C. у раној транзицији D. у средишњој транзицији</p>	<p>A. <input type="checkbox"/> B. <input type="checkbox"/> C. <input type="checkbox"/> D. <input type="checkbox"/></p>
<p>7. У којем се граду налази највећа финансијска берза на свету у протеклој деценији?</p> <p>A. у Њујорку B. у Паризу C. у Шангају D. у Токију</p>	<p>A. <input type="checkbox"/> B. <input type="checkbox"/> C. <input type="checkbox"/> D. <input type="checkbox"/></p>
<p>8. Који метал из боксита могу производити државе богате електричном енергијом?</p> <p>A. алуминиј B. бакар C. олово D. цинк</p>	<p>A. <input type="checkbox"/> B. <input type="checkbox"/> C. <input type="checkbox"/> D. <input type="checkbox"/></p>
<p>9. У којем је граду седиште ОПЕК-а?</p> <p>A. у Багдаду B. у Бечу C. у Дубаију D. у Њујорку</p>	<p>A. <input type="checkbox"/> B. <input type="checkbox"/> C. <input type="checkbox"/> D. <input type="checkbox"/></p>
<p>GEO IK-1 D-S006</p> <p> 01</p>	

Географија

<p>10. Који степен економских интеграција обухваћа искључиво слободну трговину (свим или договореним) индустријским производима међу чланицама те интеграције?</p> <p>A. царински савез B. економска унија C. заједничко тржиште D. зона слободне трговине</p>	<p>A. <input type="checkbox"/> B. <input type="checkbox"/> C. <input type="checkbox"/> D. <input type="checkbox"/></p>
<p>11. Које подручје обухваћа јапанска индустријска регија КАНТО?</p> <p>A. градове Токио, Јокохаму и Цибу B. град Нагоју C. градове Шимоносеки и Китакусу D. градове Осаку, Кобе и Кјото</p>	<p>A. <input type="checkbox"/> B. <input type="checkbox"/> C. <input type="checkbox"/> D. <input type="checkbox"/></p>
<p>12. У којој се аустралској савезној држави налази туристичка атракција Велики корални гробен?</p> <p>A. у Новом Јужном Велсу B. у Северном Територију C. у Квинсленду D. у Викторији</p>	<p>A. <input type="checkbox"/> B. <input type="checkbox"/> C. <input type="checkbox"/> D. <input type="checkbox"/></p>
<p>13. Зашто Хрватска има повољан географски смештај?</p> <p>A. јер се налази на додиру различитих цивилизацијских утицаја B. јер се налази на крајњем јужном делу северног умереног топлотног појаса C. јер се налази на сецишту лонгитудиналних и трансверзалних саобраћајних праваца D. јер се налази у средишњем делу северног умереног топлотног појаса</p>	<p>A. <input type="checkbox"/> B. <input type="checkbox"/> C. <input type="checkbox"/> D. <input type="checkbox"/></p>
<p>14. Који је од наведених сегмената хрватске копнене границе најмлађи?</p> <p>A. граница према Црној Гори B. северни сегмент границе према Босни и Херцеговини C. средишњи сегмент границе према Мађарској D. средишњи сегмент границе према Словенији</p>	<p>A. <input type="checkbox"/> B. <input type="checkbox"/> C. <input type="checkbox"/> D. <input type="checkbox"/></p>
<p>GEO IK-1 D-S006</p> <p> 01</p>	

Географија

15. Који се од наведених регионалних центара налази најближе сецишту коридора 10. и огранка 5.b?

- A. Бјеловар
- B. Карловац
- C. Славонски Брод
- D. Вараждин

A.

☐

B.

☐

C.

☐

D.

☐

16. Који је од наведених паркова природе најисточнији?

- A. Лоњско поље
- B. Медведница
- C. Папук
- D. Жумберак – Самоборско горје

A.

☐

B.

☐

C.

☐

D.

☐

GEO IK-1 D-S006



01

Географија

II Задаци вишеструких комбинација

У седећим задацима између пет понуђених требате одабрати **два** одговора. Одговоре обележите знаком X и обавезно их препишите на лист за одговоре. Сваки тачан одговор доноси 2 бода.

17. Који су од наведених појмова примери за Кориолисов учинак?

- A. Бенгалска струја
- B. измена дана и ноћи
- C. југоисточни пасат
- D. Лабрадорска струја
- E. поларни дан

- A. ☐
- B. ☐
- C. ☐
- D. ☐
- E. ☐

18. Који су од наведених појмова географски елементи карте?

- A. размерник
- B. мрежа насеља
- C. тумач
- D. географска мрежа
- E. државне границе

- A. ☐
- B. ☐
- C. ☐
- D. ☐
- E. ☐

19. Који хрватски градови имају стару језгру звездастог облика?

- A. Карловац
- B. Копривница
- C. Осиек
- D. Сисак
- E. Задар

- A. ☐
- B. ☐
- C. ☐
- D. ☐
- E. ☐

20. Који су од наведених појмова друштвени фактори у развоју пољопривреде?

- A. комасација
- B. експозиција
- C. нагиб терена
- D. површина поседа
- E. влажност тла


- A. ☐
- B. ☐
- C. ☐
- D. ☐
- E. ☐

GEO IK-1 D-S006



01

Географија

<p>21. У којим су од наведених држава главни градови уједно и највећи?</p> <p>A. у Аустралији B. у Канади C. у Немачкој D. у Руској Федерацији E. у САД-у</p>	<p>A. <input type="checkbox"/> B. <input type="checkbox"/> C. <input type="checkbox"/> D. <input type="checkbox"/> E. <input type="checkbox"/></p>
<p>22. Које су од наведених држава сталне чланице Већа сигурности УН-а и групе Г 7?</p> <p>A. Француска B. Италија C. Јапан D. Кина E. Уједињено Краљевство</p>	<p>A. <input type="checkbox"/> B. <input type="checkbox"/> C. <input type="checkbox"/> D. <input type="checkbox"/> E. <input type="checkbox"/></p>
<p>23. На којим су од наведених језера саграђене хидроцентрале?</p> <p>A. на Бајеру B. на Бутониги C. на језеру Перучи D. на Вранском језеру код Биограда E. на Вранском језеру на Цресу</p>	<p>A. <input type="checkbox"/> B. <input type="checkbox"/> C. <input type="checkbox"/> D. <input type="checkbox"/> E. <input type="checkbox"/></p>
<p>24. Која су од наведених узвишења громадне планине?</p> <p>A. Калник B. Папук C. Рисњак D. Учка E. Велебит</p>	<p>A. <input type="checkbox"/> B. <input type="checkbox"/> C. <input type="checkbox"/> D. <input type="checkbox"/> E. <input type="checkbox"/></p>
<p>GEO IK-1 D-S006</p> <p> 01</p>	

Географија

III Задаци повезивања и сређивања

У следећим задацима свакој честици означеној бројем придружите одговарајућу честицу означену словом.

Одговоре обележите знаком X и обавезно их препишите на лист за одговоре.

Сваки тачан одговор доноси 1 бод.

25. Климатским елементима придружите одговарајуће мерне уређаје.

1. киша
2. ваздушни притисак
3. ветар
4. влажност ваздуха

- A. хигрометар
B. анемометар
C. барометар
D. термометар
E. плувиометар

	A.	B.	C.	D.	E.
1.	<input type="checkbox"/>	<input type="checkbox"/>	<input type="checkbox"/>	<input type="checkbox"/>	<input type="checkbox"/>
2.	<input type="checkbox"/>	<input type="checkbox"/>	<input type="checkbox"/>	<input type="checkbox"/>	<input type="checkbox"/>
3.	<input type="checkbox"/>	<input type="checkbox"/>	<input type="checkbox"/>	<input type="checkbox"/>	<input type="checkbox"/>
4.	<input type="checkbox"/>	<input type="checkbox"/>	<input type="checkbox"/>	<input type="checkbox"/>	<input type="checkbox"/>

26. Примерима рељефних облика придружите одговарајуће процесе настанка.

1. ескер
2. гур
3. клиф
4. речне терасе

- A. абразија
B. еолска ерозија
C. егзарација
D. флувијална акумулација
E. флувијална ерозија

	A.	B.	C.	D.	E.
1.	<input type="checkbox"/>	<input type="checkbox"/>	<input type="checkbox"/>	<input type="checkbox"/>	<input type="checkbox"/>
2.	<input type="checkbox"/>	<input type="checkbox"/>	<input type="checkbox"/>	<input type="checkbox"/>	<input type="checkbox"/>
3.	<input type="checkbox"/>	<input type="checkbox"/>	<input type="checkbox"/>	<input type="checkbox"/>	<input type="checkbox"/>
4.	<input type="checkbox"/>	<input type="checkbox"/>	<input type="checkbox"/>	<input type="checkbox"/>	<input type="checkbox"/>

GEO IK-1 D-S006



05

Географија

27. Језерима придружите њихове доминантне привредне функције.

1. језеро Волта
2. Каспијско језеро
3. Охридско језеро
4. Велика језера

- A.** наводњавање
B. хидроенергија
C. саобраћај
D. експлоатација нафте
E. туризам

	A.	B.	C.	D.	E.
1.	<input type="checkbox"/>	<input type="checkbox"/>	<input type="checkbox"/>	<input type="checkbox"/>	<input type="checkbox"/>
2.	<input type="checkbox"/>	<input type="checkbox"/>	<input type="checkbox"/>	<input type="checkbox"/>	<input type="checkbox"/>
3.	<input type="checkbox"/>	<input type="checkbox"/>	<input type="checkbox"/>	<input type="checkbox"/>	<input type="checkbox"/>
4.	<input type="checkbox"/>	<input type="checkbox"/>	<input type="checkbox"/>	<input type="checkbox"/>	<input type="checkbox"/>

28. Државама придружите у њима превладавајуће религијске групе.

1. Аустралија
2. Чиле
3. Иран
4. Тајланд

- A.** римокатолици
B. будисти
C. хиндуисти
D. протестанти
E. шијити

	A.	B.	C.	D.	E.
1.	<input type="checkbox"/>	<input type="checkbox"/>	<input type="checkbox"/>	<input type="checkbox"/>	<input type="checkbox"/>
2.	<input type="checkbox"/>	<input type="checkbox"/>	<input type="checkbox"/>	<input type="checkbox"/>	<input type="checkbox"/>
3.	<input type="checkbox"/>	<input type="checkbox"/>	<input type="checkbox"/>	<input type="checkbox"/>	<input type="checkbox"/>
4.	<input type="checkbox"/>	<input type="checkbox"/>	<input type="checkbox"/>	<input type="checkbox"/>	<input type="checkbox"/>

GEO IK-1 D-S006



05

Географија

29. Факторима развоја туризма придружите одговарајуће примере.

1. комуникацијски
2. природно-атрактивни
3. друштвено-атрактивни
4. рецептивни

- A.** „Бурјал Араб”
B. „Гран Парадизо”
C. „Колосеум”
D. „ТГВ”
E. „УХПА”

	A.	B.	C.	D.	E.
1.	<input type="checkbox"/>	<input type="checkbox"/>	<input type="checkbox"/>	<input type="checkbox"/>	<input type="checkbox"/>
2.	<input type="checkbox"/>	<input type="checkbox"/>	<input type="checkbox"/>	<input type="checkbox"/>	<input type="checkbox"/>
3.	<input type="checkbox"/>	<input type="checkbox"/>	<input type="checkbox"/>	<input type="checkbox"/>	<input type="checkbox"/>
4.	<input type="checkbox"/>	<input type="checkbox"/>	<input type="checkbox"/>	<input type="checkbox"/>	<input type="checkbox"/>

30. Врстама енергије придружите државе у којима имају значајан удео у укупној производњи енергије.

1. геотермална енергија
2. енергија ветра
3. хидроенергија
4. нуклеарна енергија

- A.** Данска
B. Француска
C. Исланд
D. Саудијска Арабија
E. Швајцарска

	A.	B.	C.	D.	E.
1.	<input type="checkbox"/>	<input type="checkbox"/>	<input type="checkbox"/>	<input type="checkbox"/>	<input type="checkbox"/>
2.	<input type="checkbox"/>	<input type="checkbox"/>	<input type="checkbox"/>	<input type="checkbox"/>	<input type="checkbox"/>
3.	<input type="checkbox"/>	<input type="checkbox"/>	<input type="checkbox"/>	<input type="checkbox"/>	<input type="checkbox"/>
4.	<input type="checkbox"/>	<input type="checkbox"/>	<input type="checkbox"/>	<input type="checkbox"/>	<input type="checkbox"/>

GEO IK-1 D-S006



05

Географија

31. Обележјима придружите одговарајуће природно-географске регије Руске Федерације.

1. издашна налазишта нафте и природног плина
2. геолошки најстарија регија
3. 25 активних вулкана
4. највећа концентрација индустрије

- A.** Европска низина
B. Источносибирске планине
C. Средњосибирско височје
D. Урал
E. Западносибирска низина

	A.	B.	C.	D.	E.
1.	<input type="checkbox"/>	<input type="checkbox"/>	<input type="checkbox"/>	<input type="checkbox"/>	<input type="checkbox"/>
2.	<input type="checkbox"/>	<input type="checkbox"/>	<input type="checkbox"/>	<input type="checkbox"/>	<input type="checkbox"/>
3.	<input type="checkbox"/>	<input type="checkbox"/>	<input type="checkbox"/>	<input type="checkbox"/>	<input type="checkbox"/>
4.	<input type="checkbox"/>	<input type="checkbox"/>	<input type="checkbox"/>	<input type="checkbox"/>	<input type="checkbox"/>

32. Регијама придружите државе у којима се налазе.

1. Гран Чако
2. Минас Жераис
3. Јукатан
4. западни део Огњене земље

- A.** Аргентина
B. Бразил
C. Чиле
D. Мексико
E. Уругвај

	A.	B.	C.	D.	E.
1.	<input type="checkbox"/>	<input type="checkbox"/>	<input type="checkbox"/>	<input type="checkbox"/>	<input type="checkbox"/>
2.	<input type="checkbox"/>	<input type="checkbox"/>	<input type="checkbox"/>	<input type="checkbox"/>	<input type="checkbox"/>
3.	<input type="checkbox"/>	<input type="checkbox"/>	<input type="checkbox"/>	<input type="checkbox"/>	<input type="checkbox"/>
4.	<input type="checkbox"/>	<input type="checkbox"/>	<input type="checkbox"/>	<input type="checkbox"/>	<input type="checkbox"/>

GEO IK-1 D-S006



05

Географија

33. Афричким државама придружите њихова савремена географска обележја.

1. Јужна Африка
2. Нигерија
3. Сејшели
4. Судан

- A.** најмногољуднија држава Африке
B. површином највећа држава Африке до 2011. године
C. водећи произвођач злата у Африци
D. највиши индекс ХДИ-а у Африци
E. најгушће насељена држава Африке

	A.	B.	C.	D.	E.
1.	<input type="checkbox"/>	<input type="checkbox"/>	<input type="checkbox"/>	<input type="checkbox"/>	<input type="checkbox"/>
2.	<input type="checkbox"/>	<input type="checkbox"/>	<input type="checkbox"/>	<input type="checkbox"/>	<input type="checkbox"/>
3.	<input type="checkbox"/>	<input type="checkbox"/>	<input type="checkbox"/>	<input type="checkbox"/>	<input type="checkbox"/>
4.	<input type="checkbox"/>	<input type="checkbox"/>	<input type="checkbox"/>	<input type="checkbox"/>	<input type="checkbox"/>

34. Географским просторима придружите одговарајуће подтипове климе.

1. острво Црес
2. острво Хвар
3. Подравина
4. Велики Рисњак

- A.** Cfa
B. Cfb
C. Csa
D. Csb
E. Df

	A.	B.	C.	D.	E.
1.	<input type="checkbox"/>	<input type="checkbox"/>	<input type="checkbox"/>	<input type="checkbox"/>	<input type="checkbox"/>
2.	<input type="checkbox"/>	<input type="checkbox"/>	<input type="checkbox"/>	<input type="checkbox"/>	<input type="checkbox"/>
3.	<input type="checkbox"/>	<input type="checkbox"/>	<input type="checkbox"/>	<input type="checkbox"/>	<input type="checkbox"/>
4.	<input type="checkbox"/>	<input type="checkbox"/>	<input type="checkbox"/>	<input type="checkbox"/>	<input type="checkbox"/>

GEO IK-1 D-S006



05

Географија

35. Хидроцентралама придружите реке на којима се налазе.

1. Лешће
2. Орловац
3. Озаљ
4. Склопе

- A. Цетина
B. Добра
C. Драва
D. Купа
E. Лика

	A.	B.	C.	D.	E.
1.	<input type="checkbox"/>	<input type="checkbox"/>	<input type="checkbox"/>	<input type="checkbox"/>	<input type="checkbox"/>
2.	<input type="checkbox"/>	<input type="checkbox"/>	<input type="checkbox"/>	<input type="checkbox"/>	<input type="checkbox"/>
3.	<input type="checkbox"/>	<input type="checkbox"/>	<input type="checkbox"/>	<input type="checkbox"/>	<input type="checkbox"/>
4.	<input type="checkbox"/>	<input type="checkbox"/>	<input type="checkbox"/>	<input type="checkbox"/>	<input type="checkbox"/>

36. Индустијским предузећима придружите њихова седишта.

1. „Ђуро Ђаковић”
2. „Кандит”
3. „Подравка”
4. „Уљаник”

- A. Копривница
B. Осијек
C. Пула
D. Славонски Брод
E. Загреб

	A.	B.	C.	D.	E.
1.	<input type="checkbox"/>	<input type="checkbox"/>	<input type="checkbox"/>	<input type="checkbox"/>	<input type="checkbox"/>
2.	<input type="checkbox"/>	<input type="checkbox"/>	<input type="checkbox"/>	<input type="checkbox"/>	<input type="checkbox"/>
3.	<input type="checkbox"/>	<input type="checkbox"/>	<input type="checkbox"/>	<input type="checkbox"/>	<input type="checkbox"/>
4.	<input type="checkbox"/>	<input type="checkbox"/>	<input type="checkbox"/>	<input type="checkbox"/>	<input type="checkbox"/>

GEO IK-1 D-S006



05

Географија

IV Задаци допуњавања и кратких одговора

У следећим задацима упишите појмове који недостају.
Одговори се уписују само у ову испитну књижицу.
Не попуњавајте простор за бодовање.

37. Који је покрет литосферних табли узроковао настанак Маријанске бразде?

0

☐

2

☐

бод

38.1. Како се назива поступак мењања и допуњавања садржаја географских карата?

0

☐

2

☐

бод

38.2. Како се назива поступак уопштавања географских садржаја на карти?

0

☐

2

☐

бод

39. Како се назива показатељ којим се исказује број умрле новорођенчади до навршене прве година живота?

_____ или _____

0

☐

2

☐

бод

40. Која врста ветрова битно утиче на пољопривреду у Индији?

0

☐

2

☐


бод

GEO IK-1 D-S006



02

Географија

<p>41. Која је привредна регија САД-а позната по комплементарности пољопривредне производње, посебно производње житарица и меса те прерађивачке индустрије?</p> <p>_____</p>	<p>0 <input type="checkbox"/></p> <p>2 <input type="checkbox"/></p> <p>бод</p>
<p>42. Напишите име аутономне области чији је статус био повод сукоба Грузије и Руске Федерације у августу 2008. године.</p> <p>_____</p>	<p>0 <input type="checkbox"/></p> <p>2 <input type="checkbox"/></p> <p>бод</p>
<p>43. Напишите имена двеју држава из којих у последњих пет година Република Хрватска има највећи број туристичких долазака.</p> <p>_____ и _____</p>	<p>0 <input type="checkbox"/></p> <p>2 <input type="checkbox"/></p> <p>бод</p>
<p>44. У којем граду Истарске жупаније делује највећи број пословних субјеката у секундарним и терцијарним делатностима?</p> <p>_____</p>	<p>0 <input type="checkbox"/></p> <p>2 <input type="checkbox"/></p> <p>бод</p>
<p>GEO IK-1 D-S006</p> <p> 02</p>	



Географија

Празна страница

GEO IK-1 D-S006



99



Географија

Празна страница

GEO IK-1 D-S006



99

Географија

Празна страница

GEO IK-1 D-S006



99